
令和3年度

桐蔭学園 高等学校 学力検査問題

数 学

令和3年2月11日 施行

注意事項

1. 試験開始の合図があるまで、この冊子の中を見てはいけません。
2. 机の上には、鉛筆・消しゴム・受験票・座席券・時計以外のものを置いてはいけません。受験生どうしの貸し借りもできません。また、机の中には、自分のマークシート冊子以外、何も入れてはいけません。
3. 携帯電話は、必ず電源を切って、かばんの中に入れておいてください。
4. 問題冊子の印刷が見えづらかったり、ページが不足したりしている場合、また、鉛筆を落としたり、体の調子が悪くなったりした時は、だまって手をあげてください。
5. 問題冊子の余白などは、自由に利用してかまいませんが、どのページも切りはなしてはいけません。
6. 問題は10ページまであります。
7. 問題冊子は持ち帰ってください。

<問題解答に際しての注意事項>

- (1) 図は必ずしも正確ではありません。
- (2) コンパスや定規、分度器などは使用できません。
- (3) 分数は約分して答えなさい。
- (4) 根号の中は、最も簡単な整数で答えなさい。
- (5) 比は、最も簡単な整数比で答えなさい。

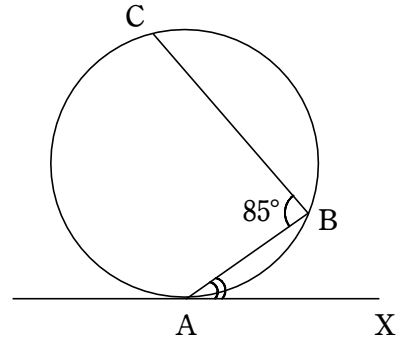
1 次の□に最も適する数字をマークせよ。

(1) $\frac{2}{\sqrt{3}} + (\sqrt{3} - 1)^2 = \square - \frac{\square}{3} \sqrt{\square}$ である。

(2) $(4a^3b^2)^2 \div (2ab)^3 = \square a^{\square} b$ である。

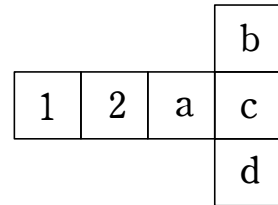
(3) $a^2 - 4a - 12 = (a + \square)(a - \square)$ である。

(4) 右の図のように、円周上に3点A, B, Cがあり、 $\widehat{AB} : \widehat{BC} = 2 : 3$ である。また、直線AXは点Aにおいて円と接している。 $\angle BAX = \square \square^\circ$ である。ただし、 \widehat{AB} は点Cを含まず、 \widehat{BC} は点Aを含まない。



(5) 正八面体の辺の本数を a 、頂点の個数を b とすると、 $a - b = \square$ である。

(6) さいころとは、向かい合う面にある数の和が7になっている立方体である。箱の中に3, 4, 5, 6の数字が書かれているカードが各1枚入っており、そこから1枚ずつ引き、右の展開図のa, b, c, dの順にその数字を当てはめて組み立てたときに、さいころができる確率は $\frac{1}{\square \square}$ である。ただし、引いたカードは元に戻さないとする。



[計算余白]

2 大中小のさいころ 3 個を同時に 1 回投げる。このとき、次の に最も適する数字をマークせよ。

(1) 出た目の数の和が 6 となるのは 通りある。

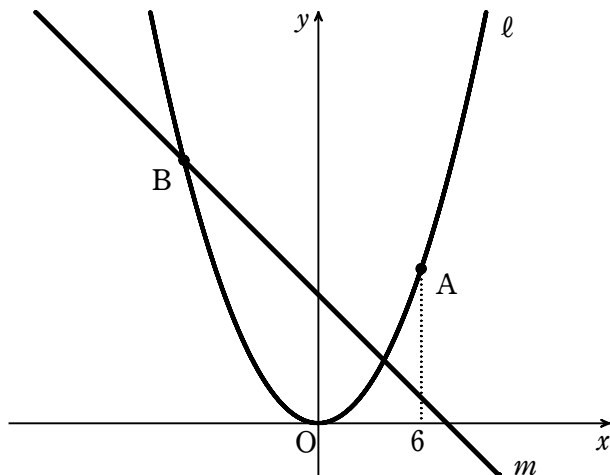
(2) 出た目の数の積が偶数となるのは 通りある。

(3) すべてのさいころの目の数が異なるのは 通りある。

このうち、大きいさいころの目の数が最も大きく、小さいさいころの目の数が最も小さくなるのは 通りある。

[計算余白]

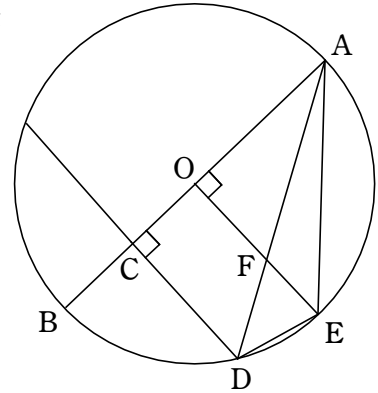
- 3 下の図のように、点 O は原点、曲線 ℓ は関数 $y = \frac{1}{4}x^2$ のグラフである。 ℓ 上の点 A の x 座標は 6 であり、直線 m は関数 $y = -x + a$ のグラフである。また、直線 m と曲線 ℓ の交点のうち、 x 座標が負のものを点 B とする。ただし、 $a > 0$ とする。このとき、次の に最も適する数字をマークせよ。



- (1) 点 A の y 座標は である。
- (2) 関数 $y = \frac{1}{4}x^2$ において、 $b \leq x \leq 6$ のときに $0 \leq y \leq 9$ となる。 b がとることのできる範囲は $-\text{イ} \leq b \leq \text{ウ}$ である。
- (3) 線分 OA の中点の座標は $\left(\text{エ}, \frac{\text{オ}}{\text{カ}} \right)$ であるから、直線 m が $\triangle OAB$ の面積を二等分するとき、 $a = \frac{\text{キク}}{2}$ である。
- (4) 点 A を通り x 軸に平行な直線と曲線 ℓ との交点のうち、点 A と異なるものを点 C とする。このとき、 x 軸に平行で、 $\triangle OAC$ の面積を二等分する直線の式は、 $y = \frac{\text{ケ}}{\text{サ}} \sqrt{\text{コ}}$ である。

[計算余白]

- 4 右の図のように、点 O を中心とし、線分 AB を直径とする半径 6 の円があり、点 C は線分 OB の中点である。2点 D, E は直径 AB に対して同じ側の円周上にあり、 $AB \perp CD, AB \perp OE$ となっている。また、線分 AD と線分 OE の交点を点 F とする。このとき、次の に最も適する数字をマークせよ。



- (1) $CD = \sqrt{\text{ア}} \sqrt{\text{イ}}$ である。
- (2) $\triangle AEF$ の面積は、 $\text{ウ} \text{エ} - \text{オ} \sqrt{\text{カ}}$ である。
- (3) $AF : AD = \text{キ} : \text{ク}$ であり、 $\triangle DEF$ の面積は、 $\text{ケ} - \text{コ} \sqrt{\text{サ}}$ である。

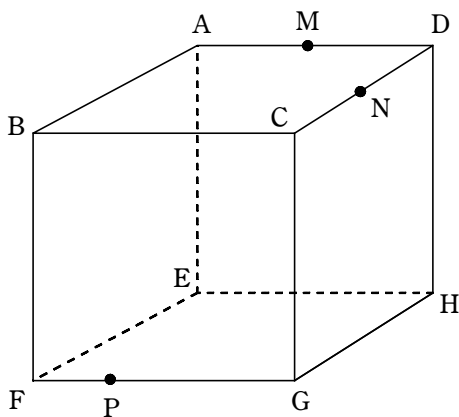
[計算余白]

5 【図1】のように、一辺の長さが2の立方体 $ABCD-EFGH$ がある。点 M, N は、それぞれ辺 AD, CD の中点であり、点 P は辺 FG 上の点である。3点 M, N, P を通る平面で立方体を切ることができる切り口を X とする。また、切り口 X によって立方体は2つに切断され、そのうち頂点 H を含む立体を Y とする。このとき、次の□に最も適する数字をマークせよ。

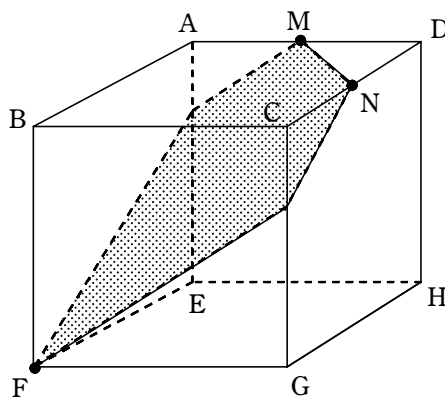
(1) $\triangle BMN$ の面積は $\frac{\square{\text{ア}}}{\square{\text{イ}}}$ である。

(2) 点 P が辺 FG の中点であるとき、立体 Y の体積は□である。

(3) 点 P が点 F と一致するとき、切り口 X は【図2】のように五角形になる。このとき、立体 Y の体積は $\frac{\square{\text{エ}}\square{\text{オ}}}{\square{\text{カ}}}$ である。



【図1】



【図2】

[計算余白]

(終 わ り)