
令和6年度 第1回午前（4科目）

桐蔭学園 中等教育学校 学力検査問題

社 会



令和6年2月1日 施行

注意事項

1. 試験開始の合図^{あいず}があるまで、この冊子^{きつし}の中を見てはいけません。
2. 机の上には、えんぴつ・シャープペンシル・消しゴム・受験票・座席券・時計以外^{ほか}のものを置いてはいけません。受験生^{けんしゅうせい}どうしの貸し借り^{かかしかり}もできません。また、机の中には何も入れてはいけません。
3. スマートフォンは、必ず電源を切って、かばんの中に入れておいてください。
4. 問題冊子^{もんたいさふし}の印刷^{いんさつ}が見えづらかったり、ページが不足したりしている場合、また、えんぴつなどを落としたり、体の調子が悪くなったりした時は、だまって手をあげてください。
5. 問題冊子のあいているところは自由に利用してかまいませんが、どのページも切りはなしてはいけません。
6. 記述問題において、小学校で習わない漢字はひらがなで書いてもかまいません。
7. 問題は15ページまであります。
8. 問題冊子は持ち帰ってください。

1 神奈川県^{かたがわ}の歴史に関する資料A~Gについて、あとの問に答えなさい。

<p>資料A</p>	<p>資料B</p>
	
<p>横浜市^{よこはま}稲荷山^{いなりやま}貝塚^{かいづか}出土の縄文土器^{じょうもん} (神奈川県埋蔵文化センター^{まいぞう}ホームページ)</p>	<p>相模国分寺^{さがみこくぶんじ}の模型^{もけい} (海老名市^{えびな}ホームページ)</p>
<p>資料C</p>	<p>資料D</p>
	
<p>伝源頼朝^{でんみなもとのよりとも}座像^{ざざう} (東京国立博物館ホームページ)</p>	<p>武陽金沢八景略図^{ぶようかなざわはっけいりやくず} (横浜市ホームページ)</p>
<p>資料E</p>	
	
<p>ペリー公園 上陸記念碑^ひ (横須賀市^{よこすか}ホームページ)</p>	

資料 F	資料 G
	
<p>1904年、完成当時の横浜正金銀行本店 (神奈川県立歴史博物館ホームページ)</p>	<p>1923年、被災後の横浜正金銀行本店 (web版有隣 第429号)</p>

[1]

資料Aは、横浜市南区の①縄文時代の稲荷山貝塚から出土した土器の写真です。戦前からこの貝塚の存在は知られていましたが、②戦後の米軍（アメリカ軍）住宅の建築工事のため、貝塚はこわされたと思われていました。ところが、米軍住宅に隣接する崖地がくずれ、整備工事中の2000年に貝塚が発見されて調査がおこなわれたのです。稲荷山貝塚からは縄文土器のほかに、たて穴住居のあとや石器や土偶などが出土しています。

問1 下線部①の時代について、正しいものを次のア～エの中から1つ選び、記号で答えなさい。

- ア 九州北部の支配者の一人が中国に使いを送り、皇帝から金印を与えられた。
- イ インドで生まれた仏教や中国の文字などが渡来人によって伝えられた。
- ウ 周りを堀やさくで囲んだ集落が現れるようになった。
- エ 地面を浅くほり、数本の柱の上に屋根をかけた住居に住むようになった。

問2 下線部②について、1951年に調印された、アメリカ軍の基地が日本の国内にとどまることを認めた条約を何といいますか。漢字8字で答えなさい。

[2]

資料Bは奈良時代に現在の神奈川県海老名市に建てられた、③相模国分寺の模型写真です。④8世紀初めに定められた、国を治めるための法律により、このころの農民は国から割り当てられた土地を^{たがや}耕し、税として米を地方の役所に納めたり、絹・塩・鉄などの特産物を都に納めたりするなどの重い負担を課せられていました。また、兵士として都や北九州の守りにつく人もいました。横浜市旭区^{あさひく}の白根公園^{しらね}には、『(1)』に収められた武蔵国^{むさしのくに}出身^{きまもり}の防人^{せきひ}のうたの石碑があります。

※武蔵国=現在の神奈川県・東京都・埼玉県の一部。

問3 下線部③のような国分寺を全国につくるように命令した人物を次のア～エの中から1つ選び、記号で答えなさい。

ア ^{てんじてんのう}天智天皇 イ ^{しやうむ}聖武天皇 ウ ^{がんじん}鑑真 エ ^{しやうとくだいし}聖徳太子

問4 下線部④の法律を何といいますか。漢字2字で答えなさい。

問5 (1)にあてはまる語句として正しいものを次のア～エの中から1つ選び、記号で答えなさい。

ア ^{こきんわかしゅう}古今和歌集 イ ^{まんようしゅう}万葉集 ウ ^{こじき}古事記 エ ^{にほんしよき}日本書紀

[3]

資料Cは鎌倉市^{かまくら}の鶴岡八幡宮^{つるがおかはちまんぐう}に伝えられ、現在は東京国立博物館に所蔵されている伝源頼朝座像(源頼朝が座っている姿だと伝えられている木像)の写真です。源頼朝は、有力な御家人を⑤守護や地頭に任命して全国各地に置き、武士による政治の体制を整え、相模国に鎌倉幕府を開きました。この幕府が続いた時代を⑥鎌倉時代といいます。

問6 下線部⑤の説明として正しいものを次のア～エの中から1つ選び、記号で答えなさい。

- ア 国ごとに置かれ、軍事・警察^{けいさつ}の仕事にあたった。
- イ 税の取り立てや犯罪の取りしまりにあたった。
- ウ 幕府の財政を管理した。
- エ 都^{みやこ}の警備や朝廷^{てんてい}の監視をおこなった。

問7 下線部⑥のできごとを述べたア～エの文を古い順にならべたとき、3番目になるものを記号で答えなさい。

- ア 元軍が2度にわたって北九州にせめてきた。
- イ 源氏の将軍が3代で絶えたあと、朝廷が鎌倉幕府をたおそうとして兵をあげた。
- ウ 武士の裁判の基準となる法律である御成敗式目がつくられた。
- エ 源頼朝が征夷大將軍に任命された。

[4]

資料Dは（ 2 ）が描いた「武陽金沢八景略図」です。金沢（横浜市金沢区）の風景の美しさは鎌倉時代から知られていましたが、江戸時代には（ 2 ）をはじめとする多くの浮世絵師により名所絵（景色がよいところなどの風景を描いた絵）の題材となりました。⑦江戸時代は生産力が向上し、生活に余裕が生まれた人々が東海道などの街道を通して各地の名所や旧跡（歴史的事件や建造物があった場所）を訪れるようになり、このような名所絵も多く描かれたのです。

問8 下線部⑦の理由として誤っているものを次のア～エの中から1つ選び、記号で答えなさい。

- ア 備中ぐわや千歯こきなどの新しい農具が普及した。
- イ 各地で新田開発がすすめられた。
- ウ 干したイワシを肥料に使用した。
- エ 稲をかり取ったあとに麦などをつくる二毛作が始まった。

問9 （ 2 ）にあてはまる人物として正しいものを次のア～エの中から1つ選び、記号で答えなさい。

- ア 近松門左衛門
- イ 歌川広重
- ウ 松尾芭蕉
- エ 雪舟

[5]

資料Eは横須賀市のペリー公園内にある「ペリー上陸記念碑」の写真です。1853年、アメリカ合衆国の使節ペリーが大統領の開国を求める国書をもって相模国の浦賀（横須賀市）に来航しました。翌年、江戸幕府は（ 3 ）条約を結びアメリカと国交を開き、200年以上にわたる⑧鎖国の状態が終わりました。

この記念碑は1901年に建てられましたが、「北米合衆国水師提督上陸記念碑」という碑文は⑨伊藤博文の筆によるものです。日本とアメリカが敵対関係となった⑩太平洋戦争中の1945年2月に記念碑は引き倒されましたが、終戦後に復元されました。

問10 （ 3 ）にあてはまる語句を漢字4字で答えなさい。

問11 下線部⑧の状態の間も江戸幕府と長崎で貿易をおこなっていた国を次のア～エの中から2つ選び、記号で答えなさい。

ア オランダ イ 朝鮮 ウ 琉球王国 エ 中国（清）

問12 下線部⑨の人物について、誤っているものを次のア～エの中から1つ選び、記号で答えなさい。

- ア 岩倉使節団の一員としてアメリカやヨーロッパを訪れた。
- イ 内閣制度をつくり、初代内閣総理大臣となった。
- ウ 皇帝の権限が強いドイツの憲法を参考にして憲法づくりをすすめた。
- エ アメリカと交渉をおこない、関税自主権を回復した。

問13 下線部⑩の戦争中の日本の様子について、誤っているものを次のア～エの中から1つ選び、記号で答えなさい。

- ア アメリカ軍の空襲が本格化した1944年には、都市の小学生が親元をはなれ、遠くの農村などに集団で疎開した。
- イ 大学生は兵器工場などに動員されたが、兵士として戦地には送られなかった。
- ウ 戦場となった沖縄では一般の市民や、現在の中学生・高校生くらいの生徒までが動員された。
- エ 1945年8月、アメリカ軍により人類史上初めて製造された2発の原子爆弾が広島と長崎に投下され、あわせて30万人以上の命がうばわれた。

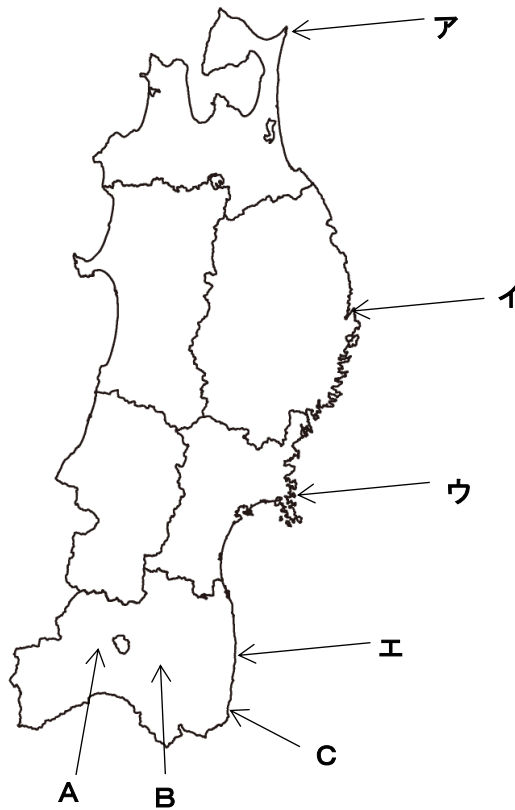
[6]

資料 F は横浜市中区なかくにあった横浜正金銀行が 1904 年に完成した当時の様子、また、資料 G は⑩1923 年に相模湾北西部さがみわんを震源しんげんとして発生した大地震の後の様子です。銀行の建物は倒壊しませんでしたでしたが、猛火まうかのため地下をのぞき 3 階までの内部はほとんど焼失しました。翌年ないうしう、内装と天井てんじょうを修理の上、銀行として復活しましたが、1946 年にアメリカを中心とする連合国軍により閉鎖へいさされました。現在、この建物は神奈川県立歴史博物館となっています。

問14 下線部⑩の発生後の混乱の中で、誤ったうわさが流され、多くの朝鮮ちようせんの人々がおそわれ殺害される事件がおきました。当時、多くの朝鮮の人が日本に移り住んでいたのはなぜですか。

2 次の問に答えなさい。

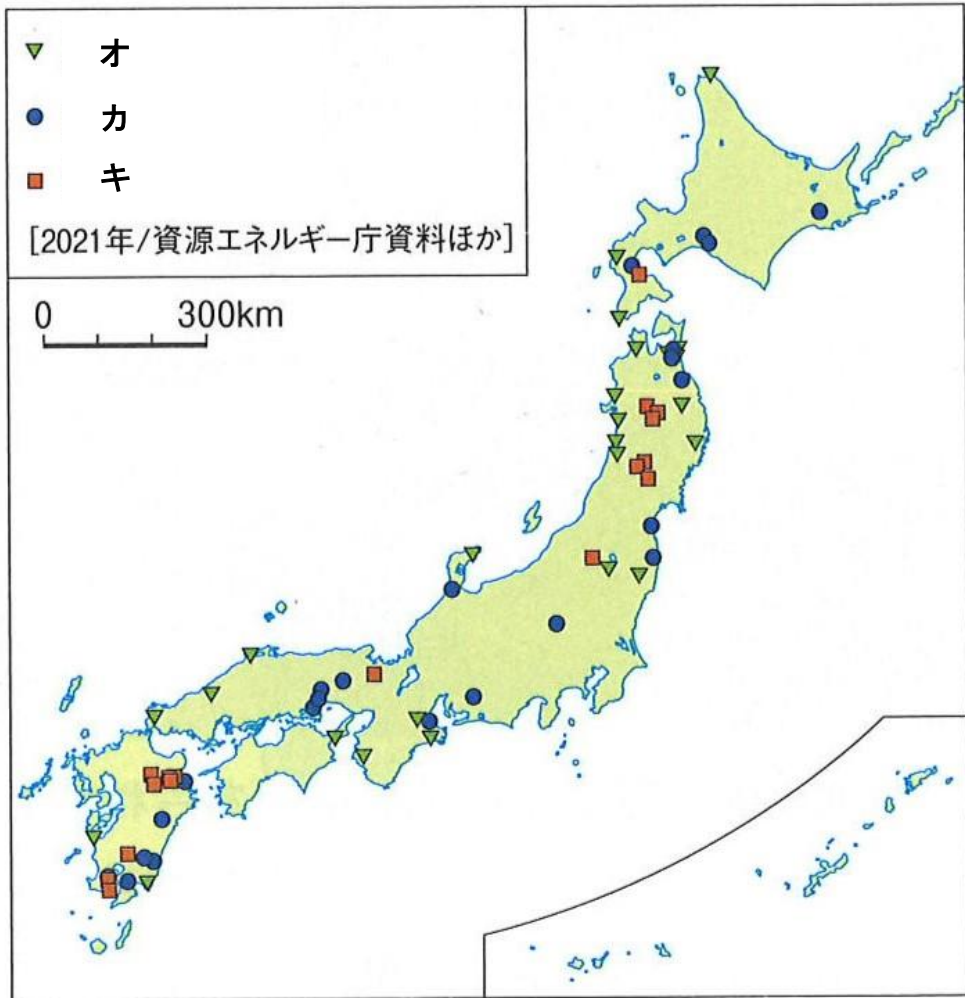
問1 2023年8月に、東北地方の原子力発電所から、処理水の海洋放出が始まりました。次の図中**ア～エ**のうち、その原子力発電所の位置を選び、記号で答えなさい。



問2 次の文の空らん（ ① ）、（ ② ）にあてはまる語句を、漢字またはひらがなで答えなさい。

2011年3月におきた（ ① ）大震災では、地震直後の（ ② ）により、問1の原子力発電所の電源装置がこわれてしまい、原子炉で大きな事故が発生した。

問3 原子力や火力などの発電に加え、現在は再生可能エネルギーの開発が広がっています。次の図は日本国内の主な再生可能エネルギーの発電所（風力・地熱・太陽光）の分布図です。地図中の**オ**～**キ**のうち、太陽光と地熱に当たるものをそれぞれ選び、記号で答えなさい。



『新しい社会 5下』（東京書籍）より

問4 問3で、地熱発電所を選んだ理由を説明しなさい。

問5 次の文の空らん（ ① ）～（ ④ ）にあてはまる地名または用語を、それぞれ漢字またはひらがなで答えなさい。

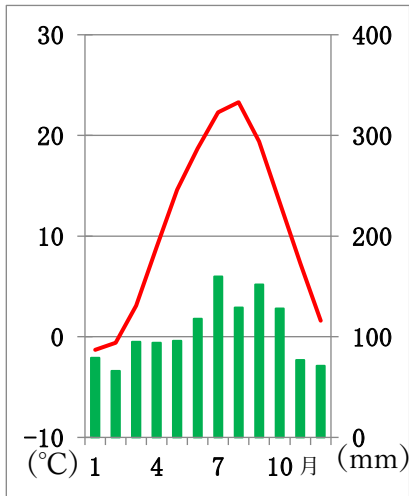
東北地方の太平洋側には良い漁場があり、特に青森県・（ ① ）県・宮城県にまたがる（ ② ）海岸の沖では、（ ③ ）海流と日本海流が交わる潮目があり、良い漁場として知られている。近年は沖合の漁場で取れる魚介類だけでなく、海岸付近で人工的に魚介類を育てて出荷する（ ④ ）と呼ばれる漁業も盛んである。

問6 次の統計ク～コは、日本で人工的に育てた魚介類の都道府県別収穫量の割合（2021年）である。魚介類はかき類、ほたてがい、わかめ類のいずれかである。ク～コのうち、かき類はどれか、記号で答えなさい。

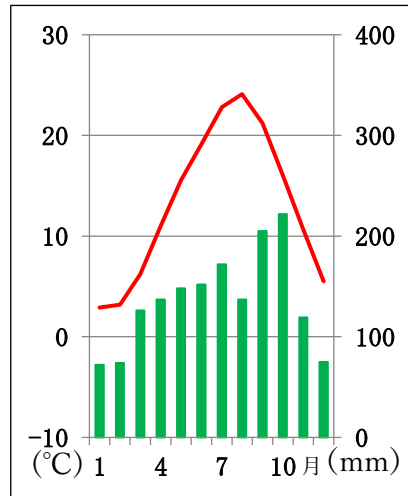
- ク 宮城 43%、岩手 31%、徳島 9%
- ケ 青森 48%、（ サ ） 46%、宮城 4%
- コ 広島 58%、宮城 14%、岡山 9%

問7 問6の（ サ ）にあてはまる都道府県名を漢字で答えなさい。

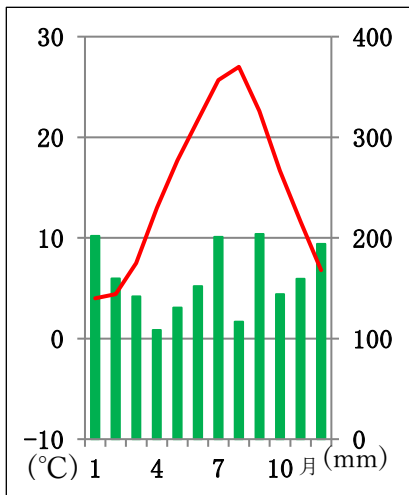
問8 次の雨温図シ～セは、問1の図中A～Cのいずれかのものである。AとBにあてはまる雨温図をシ～セから選び、記号で答えなさい。



シ



ス



セ

問9 問8でAの雨温図を選んだ理由を説明しなさい。その時、次の【】内の語句をすべて使うこと。

【季節風 奥羽山脈 雪】

3 女性の生き方に関心のある桐子さんは、矢島楯子の生涯を描いた映画を鑑賞し、その感想をクラスで発表しました。次の桐子さんの感想文を読んで、あとの間に答えなさい。

皆さんは矢島楯子という女性を知っていますか。天保年間に生まれ、明治、①大正の時代に女子教育や社会事業に尽くした人物です。楯子は男尊女卑の風潮の強い時代に、九州の熊本県に生まれました。

東京に来てから教員になりましたが、その献身的な仕事ぶりが認められ、②キリスト教教育の学校である女子学院の初代院長となります。そして、女子教育以外にも、(注) 婦人矯風会を設立し、一夫一婦制の実現や③婦人参政権の獲得、禁酒運動などに力を尽くし、④ワシントン平和会議にも出席するなど、多彩な活躍をし、93年の生涯を終えました。

楯子は決して完璧な人間ではなく、様々な弱さも抱えていました。しかし、教育や信仰によって人間はより良く生きることができると信じ、⑤女性の地位の低かった時代に、女子教育に力を入れました。

また、禁酒運動をしたり、平和会議へ参加したのは、お酒や戦争による暴力をなくすことが、女性の幸福につながると考えたからなのではないかと感じました。

楯子の死から間もなく100年になろうとしています。その間に男女平等を唱える⑥日本国憲法も成立しましたが、⑦日本の男性と女性の地位の開きは、世界の中でも相変わらず大きいと聞きます。最近では、男性、女性というわくぐみにとられず、全ての人が幸せにくらせる社会作りが議論されています。

楯子の志を受け継ぎ、⑧誰もが平和で幸せに暮らせる世界にするために、将来、私も社会貢献していきたいです。

(注) 婦人矯風会・キリスト教精神に基づき女性の人権を守る団体。

問1 下線部①に関して、大正時代について述べた文として最も適当なものを、次のア～エの中から1つ選び記号で答えなさい。

ア 身分制が廃止されてからも、日常生活で差別に苦しんでいた人々は、「全国水平社」をつくり、「みずからの力で差別をなくす」運動をはじめた。

イ 18歳以上のすべての男子が選挙権をもつことができるようになったが、いっぽうで、政治のしくみを変えようとする思想を厳しく取りしめる法律もつくられた。

- ウ 板垣退助らによって、大日本帝国憲法に基づく政治や政党中心の政治を実現すべきとする大正デモクラシーの運動が起こった。
- エ 津田梅子は、「もともと、女性は太陽であった」と言って、仲間とともに、女性の地位の向上をめざす運動を続けた。

問2 下線部②③⑤に関して述べた、次の(1)(2)(3)の文の(A)～(C)に入る最も適当な基本的人権を、下の図からそれぞれ1つ選んでア～クの記号で答えなさい。

- (1) 下線部②について、日本とアメリカが戦争をしていた時、キリスト教の学校は宗教教育を禁止されたことがありましたが、これは日本国憲法の保障する基本的人権のうち、(A)に反するおそれがあります。
- (2) 下線部③について、参政権とは(B)のことで、1945年までは日本の女性には認められていませんでした。
- (3) 下線部⑤について、女性の地位が低かったことは、日本国憲法の保障する基本的人権のうち、(C)に反します。



『小学社会6年』（日本文教出版）より

問3 下線部④に関して、現代でも様々な国際会議がありますが、下の写真は2023年に日本で開かれた、7つの国の^{しゅのう}首脳が話し合いをするサミットのものです。この7人の^{しゅのう}首脳の中には一人だけ女性がいますが、その女性はどこの国の^{しゅのう}首脳ですか。国名で答えなさい。



「東京新聞のHP」を一部加工

問4 下線部⑥について述べた文で正しいものを、次のア～エの中から1つ選び記号で答えなさい。

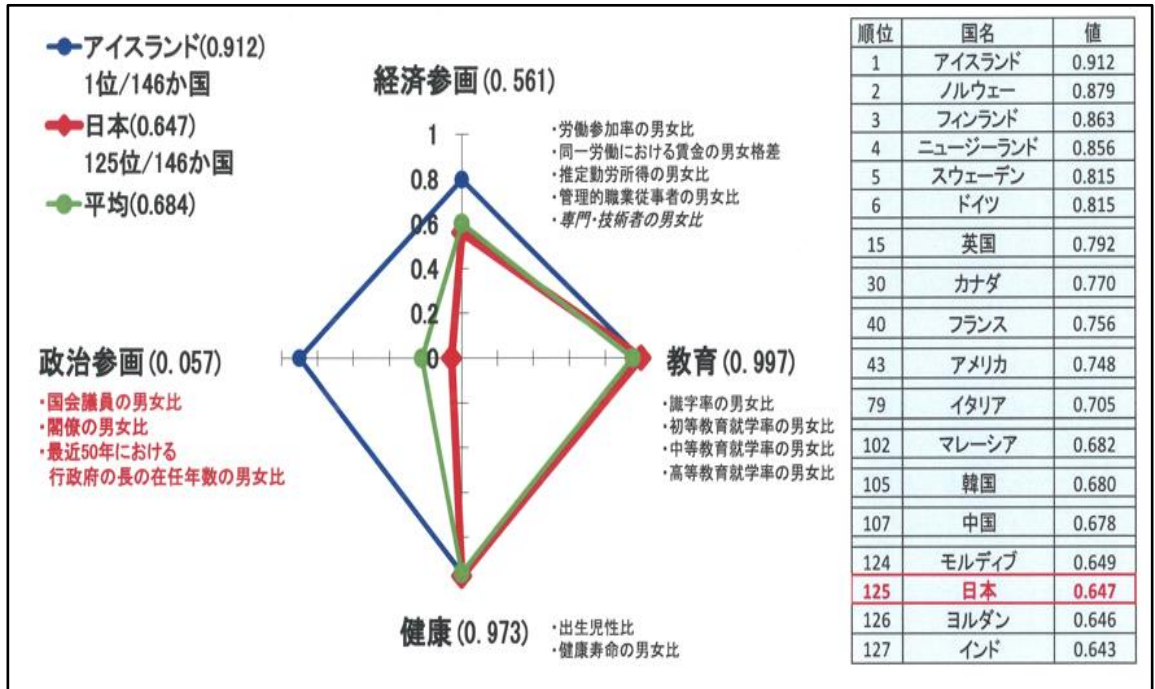
ア 日本国憲法が保障する基本的人権は、おかしことのできない永久の権利として、現在だけでなく将来の国民にも与えられている。

イ 選挙権は、憲法の三つの原則の一つである国民主権の代表的な例であるが、選挙権を持っているのは20歳以上の国民である。

ウ 天皇は日本国の^{しゅうちょう}象徴であり、憲法改正の^{はつき}発議や内閣総理大臣の指名など、憲法に定められた^{こくじこうい}国事行為を行う。

エ 日本国憲法の第9条では、自国を守るための戦争は例外的に認めると条文に書かれている。

問5 下線部⑦について、「世界経済フォーラム」が発表した2023年の「ジェンダー・ギャップ指数」(男女格差を数値化したもの。0が完全不平等、1が完全平等)に関する下の図や表を見てわかることを述べた文で正しいものを、次のア～エの中から1つ選び記号で答えなさい。



内閣府男女共同参画局のHPより

- ア 健康については日本の男女平等はほぼ実現されているが、教育については健康ほどの平等は実現されていない。
- イ 経済参画についての日本の男女平等は、アイスランドに比べれば達成されておらず、調査国のほぼ平均の達成度合いである。
- ウ 政治参画についての日本の男女平等はほとんど達成されていないが、調査国の平均よりは上回っている。
- エ 日本の男女平等の達成度の順位は、先進国で下位の方だが、韓国や中国よりは上位である。

問6 下線部⑧について、平和に関する取り組みについて述べた次の各文の説明のうち適当でないものを、次のア～エの中から1つ選び記号で答えなさい。

- ア 日本は核兵器の被害を受けた、ただ一つの被爆国で、「核兵器をもたない、つぐらない、もちこませない」という非核三原則を掲げている。
- イ 日本のODA（政府開発援助）の活動の一つである青年海外協力隊は、発展途上国において教育、医療などの分野で活躍している。
- ウ 医師の中村哲さんは、NGO（非政府組織）の支援を受けて、アフガニスタンで医療以外にも用水路をひらくなどの活動を長期にわたって行った。
- エ 自衛隊が海外で活動することは憲法で禁止されているので、国連の平和維持活動（PKO）には日本はまだ参加できていない。

問7 日本のジェンダー・ギャップ指数のうち政治参画の数値を上げるために必要なことは何だと思いますか。解答らんにご自分の意見を書きなさい。

問題は以上です

(令和6年度)

社会解答用紙

(第1回午前入試)

教室番号	座席番号	受験番号	氏名

合計

注意 (イ) ※のらんには何も書かないこと。
(ロ) 答えは、数字やア、イ、ウなどの記号をまぎらわしくないようにきちんと書くこと。

1

問1	問2	問3	問4

※

問5	問6	問7	問8	問9	問10

問11	問12	問13

問14

2

問1	問2		問3	
	①	②	太陽光	地熱

※

問4

問5				問6	問7	問8	
①	②	③	④			A	B

問9

3

問1	問2			問3	問4	問5	問6
	(1)	(2)	(3)				

※

問7