
令和6年度 第3回 (4科目)

桐蔭学園 中等教育学校 学力検査問題

社 会

令和6年2月5日 施行

注意事項

1. 試験開始の合図があるまで、この冊子の中を見てはいけません。
2. 机の上には、えんぴつ・シャープペンシル・消しゴム・受験票・座席券・時計以外のものを置いてはいけません。受験生どうしの貸し借りもできません。また、机の中には何も入れてはいけません。
3. スマートフォンは、必ず電源を切って、かばんの中に入れておいてください。
4. 問題冊子の印刷が見えづらかったり、ページが不足したりしている場合、また、えんぴつなどを落としたり、体の調子が悪くなったりした時は、だまって手をあげてください。
5. 問題冊子のあいているところは自由に利用してかまいませんが、どのページも切りはなしてはいけません。
6. 記述問題において、小学校で習わない漢字はひらがなで書いてもかまいません。
7. 問題は15ページまであります。
8. 問題冊子は持ち帰ってください。

1 次の文章を読んで、あとの間に答えなさい。

私たちの暮らしに地図は欠かせません。地図にはさまざまな種類のものがありますが、世界全体を正確に描くことはできません。地図はさまざまな決まりに基づいて作成されます。その一つが地図記号ですが、それらは時代とともに変化しています。国土地理院の地形図でも、最近①新たに採用された記号があります。

地図上には、さまざまな数値やデータ、分布などを表現することができます。なかでも自然環境や②工業生産、③食料生産、④ものや人の行き来を表現した地図は、社会科の学習でも活用されています。

自然災害に対する備えとしても地図は欠かせません。市区町村などの自治体では、⑤集中豪雨、地震、津波などの自然災害による被害を予想し、避難場所なども地図に示した(⑥)を作成しています。

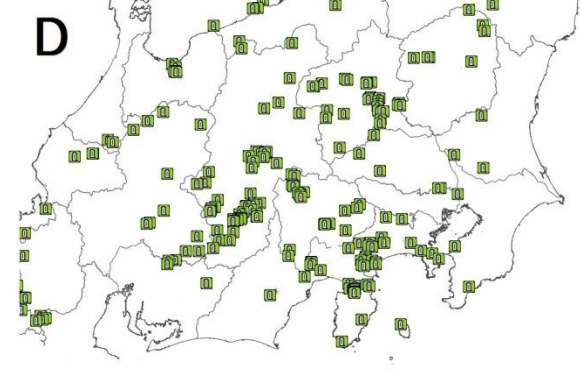
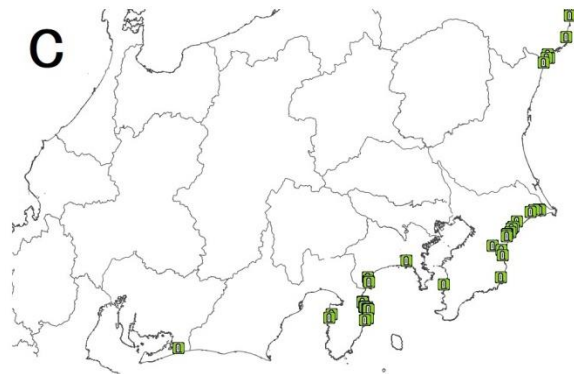
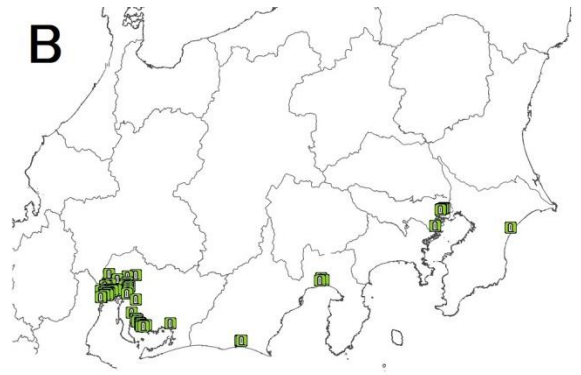
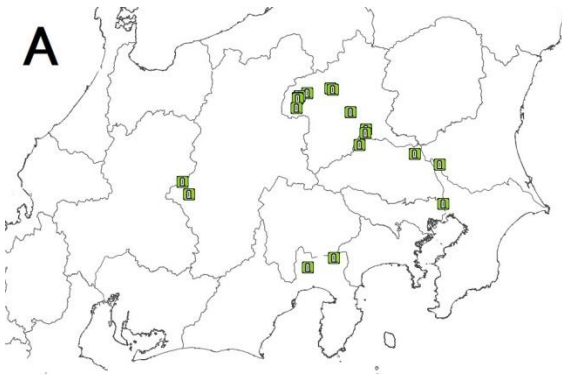
また、テーマの異なる複数の地図の比較や、⑦古い地図と新しい地図の比較から、地域の特徴や変化、地域がかかえる課題などを考察することができます。

問1 下線部①について、国土地理院は、2019年に「自然災害伝承碑」の記号を定めました。次ページの地図は全国各地にある過去の災害の内容を記した記念碑の場所を示したものです。

(1)「自然災害伝承碑」の記号は、2018年におきた自然災害がきっかけで定められました。その自然災害を、次のア～エの中から1つ選び、記号で答えなさい。

ア 東日本大震災 イ 阪神・淡路大震災 ウ 伊勢湾台風 エ 西日本豪雨

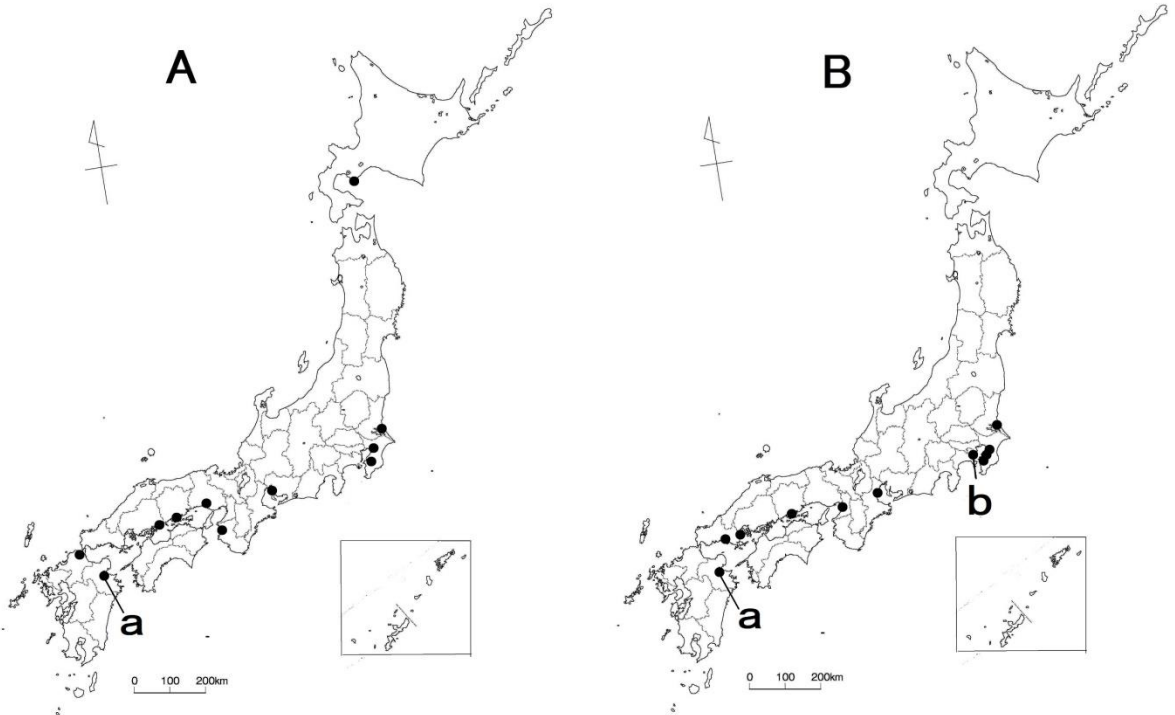
(2) 地理院地図では、「自然災害伝承碑」の地図記号を災害の種類別に表示させることができます。次のA~Dの「自然災害伝承碑」の分布図は、火山災害、高潮、津波、土砂災害のいずれかを示したものです。AとBの災害の種類を、下のア~エの中からそれぞれ1つずつ選び、記号で答えなさい。



(『地理院地図』より作成)

- ア 火山災害 イ 高潮 ウ 津波 エ 土砂災害

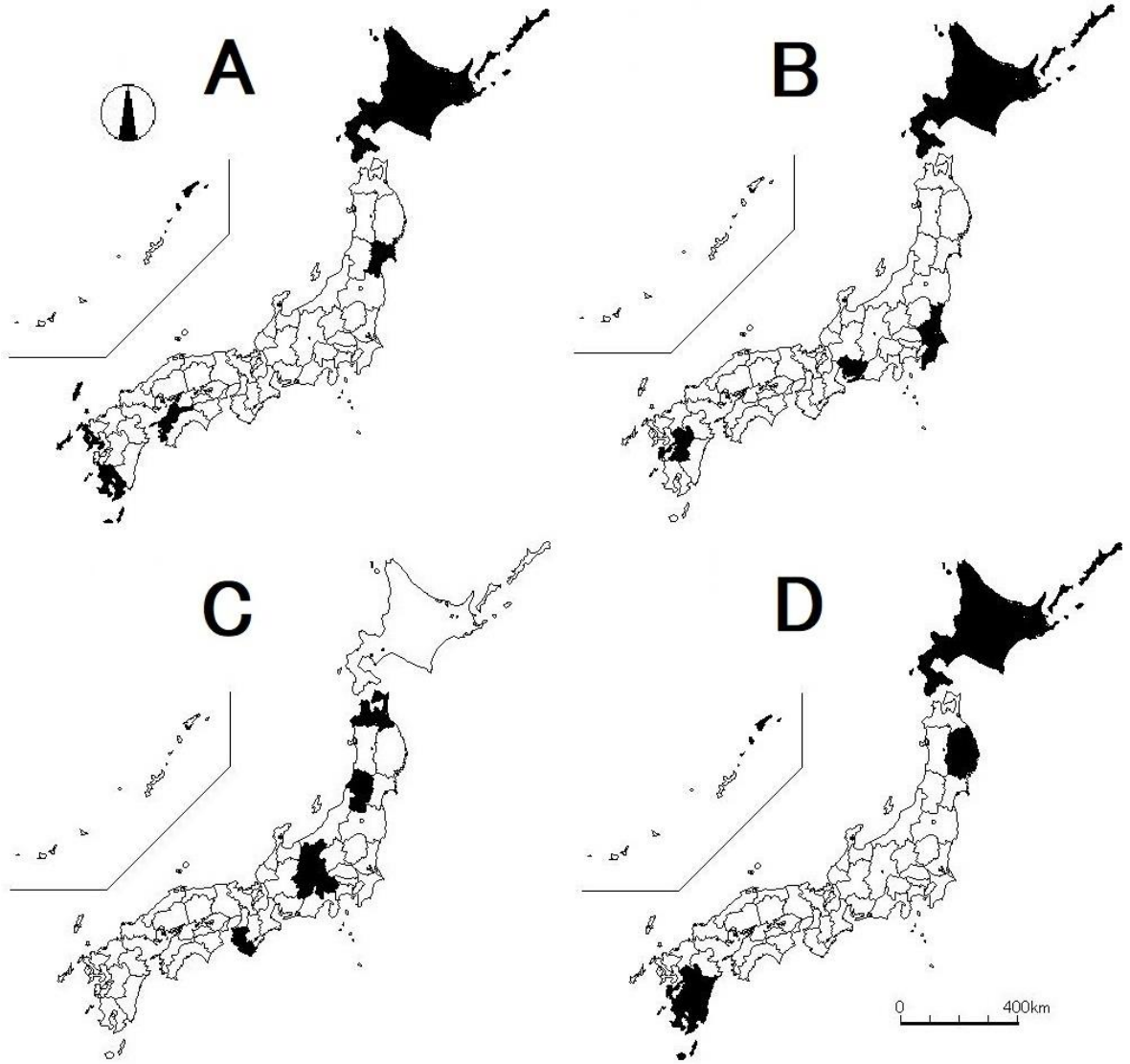
問2 下線部②について、次の日本地図のうち、Aには主な製鉄所、Bには主な石油化学コンビナートが見られる都市の位置を示しています。



(『日本国勢図会』より作成)

- (1) A・Bの地図に示したaとbの都市のうち、aは県庁所在地、bは県庁所在地ではないが人口が100万人をこえる政令指定都市です。aとbの都市名を漢字で答えなさい。
- (2) A・Bの地図を見ると、日本における主な製鉄所と石油化学コンビナートの分布には共通する特徴があることがわかります。どのような特徴がありますか。「原料」という語を用いて説明しなさい。

問3 下線部③について、次のA~Dは、野菜、果物、畜産物、漁獲物のいずれかについて生産額が上位5位以内に入る都道府県（2020年）を示したものです。AとBにあてはまるものを、下のア~エの中からそれぞれ1つずつ選び、記号で答えなさい。



（『生産農業統計』などより作成）

ア 野菜 イ 果物 ウ 畜産物 エ 漁獲物


問4 下線部④について、次の表は、「日本人が多く住む国（2021年）」、「日本に住む外国人（2021年）」、「日本の主な輸出相手国（2020年）」、「日本の主な輸入相手国（2020年）」のいずれかについて上位5か国（地域）の割合（%）を示しています。AとBにあてはまるものを、下のア～エの中からそれぞれ1つずつ選び、記号で答えなさい。

	A		B		C		D	
1位	中国	22.0	中国	26.0	中国	25.8	アメリカ	32.0
2位	アメリカ	18.4	ベトナム	15.7	アメリカ	11.0	中国	8.0
3位	<small>かんこく</small> 韓国	7.0	韓国	14.8	オーストラリア	5.6	オーストラリア	6.9
4位	<small>たいわん</small> 台湾	6.9	フィリピン	10.0	韓国	4.2	タイ	6.1
5位	ホンコン	5.0	ブラジル	7.4	台湾	4.2	カナダ	5.3

(教育出版『小学社会6』より作成)

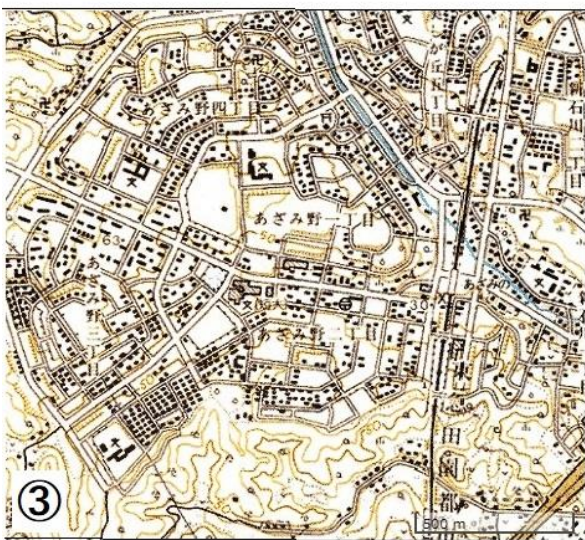
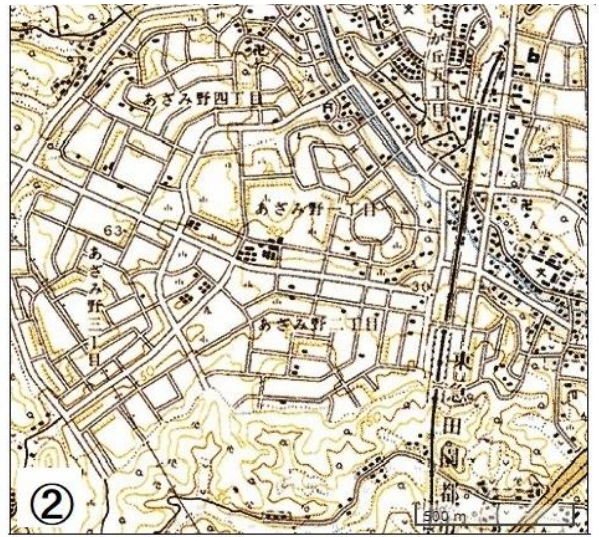
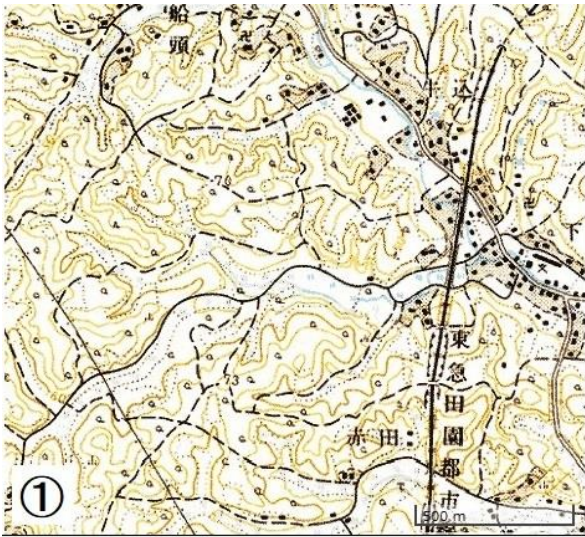
- ア 日本人が多く住む国 イ 日本に住む外国人
ウ 日本の主な輸出相手国 エ 日本の主な輸入相手国

問5 下線部⑤について、集中豪雨とそれにもなう災害への対策にあてはまらない施設の写真を、次のア～エの中から1つ選び、記号で答えなさい。



問6 空らん（ ⑥ ）にあてはまる語句を、カタカナで答えなさい。

問7 下線部⑦について、次の地図は、桐蔭学園の生徒が多く利用する東急田園都市線あざみ野駅の西側の地域を描いたものです。①が1966年、②が1976年、③が1985年の同じ範囲の様子を描いたもので、①～③の間にあざみ野駅が開業しました。あざみ野駅の開業によって、駅の西側の地域では、地形や土地の使われ方がどのように変化しましたか。地図から読み取れることを述べなさい。



(「今昔マップ」より作成)

2 次の文章を読んで、あとの間に答えなさい

等太郎さんたちは、敗戦と戦後復興について調べることにしました。まず、敗戦までの年表をつくるところから作業を始めました。

西暦	戦争の経過	社会の様子
1931年	①満州事変が起こる。	
1932年	満州国ができる。	
1933年	国際（②）から脱退する。	
1937年	（③）が始まる。	
1938年		国家総動員法ができる。
1940年	日本が④三国同盟を結ぶ。	電力の使用が制限される。
1941年	アメリカが日本への（⑤）の輸出を禁止する。	米の（⑥）制が始まる。
1942年	ミッドウェー海戦で日本が敗北する。	衣料の（⑦）制が始まる。
1943年	学徒出陣が始まる。	
1944年	アメリカによる空襲が始まる。	学童疎開が始まる。
1945年	⑧原子爆弾が投下される。 ポツダム宣言を受け入れ敗戦。	

年表をつくり終えた等太郎さんたちは、戦争が終わった後の日本の様子について話し合いを始めました。

等太郎さん：「その当時の暮らしについて、くわしく知りたいですね。」

かげ 蔭子さん：「⑨空襲をさけて地方で生活していた小学生たちは、戦争が終わって大都市に帰ってきたのでしょうか。」

きり 桐丸さん：「みんなで図書室に調べに行きましょう。」

3人が図書室で写真を見たり、本を読んだりしたところ、敗戦直後の暮らしは、とても苦しいものでした。多くの人々が住むところを失い、食べるものや着るものなど暮らしに必要な物資の不足に悩みました。栄養失調で病気になったり、なくなったりする人や、戦争で親をなくして孤児となった子どももたくさんいることを知りました。

それから3人は、日本が敗戦からどのように立ち直ったかについて話し合いました。

桐丸さん：「国を立て直すために、⑩様々な改革を行ったと聞いたことがあります。」

等太郎さん：「日本国憲法の制定もこの時期に行われましたね。」

蔭子さん：「人々は一生懸命に働いて、⑪住むところや暮らしに必要なものを手に入れ、安定した生活を送ることができるようになったのだと思います。」

このような話をしながら、3人はさらに図書室で調べ物を進めました。そして学習のまとめとして3人は戦後復興までの様子をスライドにし、発表を行いました。

(スライド)

「ア」

<できごと>

・選挙法の改正

<影響>

・男女に選挙権

・20歳以上の人に選挙権



出典：毎日新聞社 HP

「イ」

<できごと>

・平和条約を結ぶ

<影響>

・日米安全保障条約

・国連に加盟



出典：二宮山川 ICT ライブラリー

「ウ」

<できごと>

・東京オリンピック開催

<影響>

・高速道路の整備

・(⑫) 新幹線開通



出典：二宮山川 ICT ライブラリー

問1 下線部①について、日本軍が^{ぼくは}爆破した鉄道名を漢字5文字で答えなさい。

問2 空らん②にあてはまる語句を漢字2文字で答えなさい。

問3 空らん③にあてはまる語句を次のア～エの中から1つ選び、記号で答えなさい。

ア 太平洋戦争 イ 第二次世界大戦 ウ 日中戦争 エ ^{にちろせんそう}日露戦争

問4 下線部④について、日本以外の2国の正しい組み合わせを次のア～エの中から1つ選び、記号で答えなさい。

ア スイス、フランス イ スペイン、イギリス
ウ イタリア、ドイツ エ ^{れんぽう}ソビエト連邦、ギリシャ

問5 空らん⑤にあてはまる語句を次のア～エの中から1つ選び、記号で答えなさい。

ア 石炭 イ ^{てっこうせき}鉄鉱石 ウ 石油 エ 木炭

問6 空らん⑥にあてはまる語句を次のア～エの中から1つ選び、記号で答えなさい。

ア ^{きっぷ}切符 イ 支給 ウ 配給 エ 限定

問7 空らん⑦にあてはまる語句を次のア～エの中から1つ選び、記号で答えなさい。

ア 切符 イ 支給 ウ 配給 エ 限定

問8 下線部⑧が8月9日午前11時2分に投下された都市を、漢字またはひらがなで答えなさい。

問9 下線部⑨について、戦後大都市にもどってきた小学生の中には写真のように外で学習をしなければならなかった子ども達もいました。なぜ屋外で学習しているのでしょうか。写真を参考に、説明しなさい。



出典：二宮山川 ICT ライブラリー

問10 下線部⑩について、戦後の改革として誤っているものを次のア～エの中から1つ選び、記号で答えなさい。

- | | |
|-------------|-------------|
| ア 軍隊を解散する | イ 政党が復活する |
| ウ 労働組合を廃止する | エ 教育制度を改革する |

問11 下線部⑪について、1955年から1965年ごろ多くの人々が持つようになった3つの電化製品をまとめて何と呼ぶか、写真を参考に答えなさい。(漢字またはひらがなで書きなさい。)



出典：東北歴史博物館 HP

問12 空らん⑫にあてはまる語句を漢字で答えなさい。

問13 スライド「ア」～「ウ」を時代が古い順にならびかえなさい。

3 次の会話文を読んで、あとの問に答えなさい。

桐子さん：今日、「子ども議会」に行ってきました。

蔭夫さん：それは何ですか？

桐子さん：T市が行っているもので、応募した中学生が集まって、今、市が抱えている問題をどのように解決していったら良いか話し合ったんです。

蔭夫さん：どのような形で話し合いは行われたのですか？

桐子さん：本当の議会みたいに午前中に〔 ① 〕に分かれてそれぞれの議題について話し合いをし、午後に本会議でその議案について採決をとったりしたんです。

蔭夫さん：それは面白そうですね。貴重な経験ができてうらやましいです。

桐子さん：はい、良い経験になりました。今度は国会に行ってみたいと思っています。

蔭夫さん：私は②国会を傍聴ぼうちょうしたことがあるんです。議員が前で質問して、大臣の人が答えていました。

桐子さん：どのような質問をしていましたか？

蔭夫さん：台風で被害を受けた場所の復興を支援するために新たに③予算を組むかどうかを話し合っていたと思います。

桐子さん：それは本当に重要なことだと思います。やはりこれからも私たちが④政治に関心を持たなければいけないですね。

蔭夫さん：そう思います。今度クラスみんなで⑤裁判所に見学に行くみたいです。

桐子さん：それは面白そうですね。私たちも将来、裁判員になる可能性があるんですね？きちんと勉強したいと思います。

蔭夫さん：本当にそうですね。2022年から民法が改正されて成人年齢が〔 ⑥ 〕歳さいになっています。しっかりと勉強をしてこようと思います。

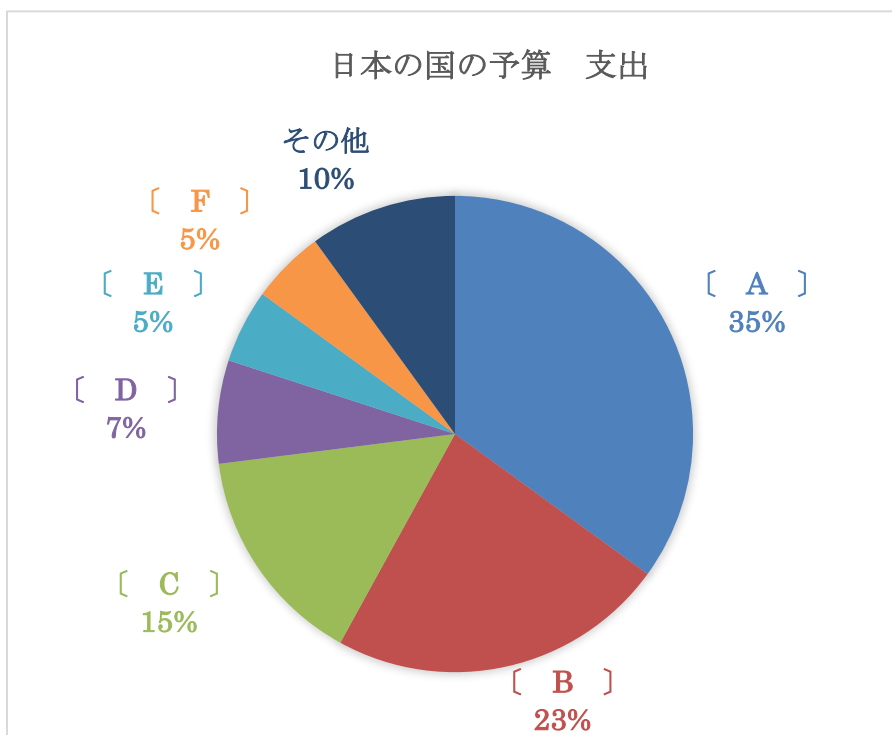
問1 空らん〔 ① 〕・〔 ⑥ 〕にあてはまる語句をそれぞれ答えなさい。

問2 下線部②について、国会に関する記述として適切なものを、次のア～エの中から1つ選び、記号で答えなさい。

- ア 日本の国会は衆議院と貴族院からなる。
- イ 日本の国会は裁判官をやめさせることができる。
- ウ 日本の国会は各省庁の公務員が中心となって話し合いをしている。
- エ 日本の国会は各市議会が決めた条例を承認している。

問3 下線部③について、2020年の国の予算を示した以下のグラフのうち、〔A〕〔B〕に入る項目は何か。次のア～カの中から1つずつ選び、記号で答えなさい。

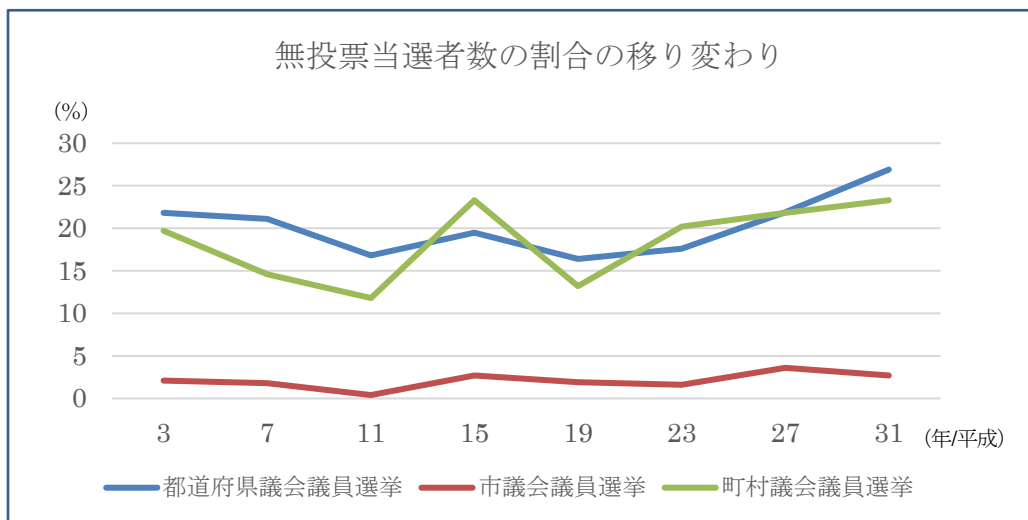
- ア 公共事業費 イ 防衛費 ウ 教育・文化・科学費 エ 社会保障費
- オ 地方財政費 カ 国債費



『新しい社会6 政治国際編』東京書籍より作成

問4 下線部④について、以下のグラフは都道府県や市町村の議会議員選挙における無投票当選者数の割合の移り変わりを示したものです。無投票当選とは、選挙において立候補者の数が定数と同じかそれ以下となった場合に、投票が行われずに当選者が決まることです。

(1) このグラフについて書かれたA～Cの文の正・誤の組み合わせとして適切なものを、下のア～クから1つ選び、記号で答えなさい。



地方制度調査会資料より(指定都市議会議員選挙を除く)

- A 都道府県議会議員選挙の方が、市議会議員選挙より無投票当選者の割合が高い。
- B 町村議会議員選挙に立候補者が少ないのは、女性は立候補できないからである。
- C 町村議会議員選挙と都道府県議会議員選挙の無投票当選者数が年によって変化するのは、立候補できる年齢が違うからである。

- | | | | | | | | |
|---|-----|-----|-----|---|-----|-----|-----|
| ア | A 正 | B 正 | C 正 | イ | A 正 | B 正 | C 誤 |
| ウ | A 正 | B 誤 | C 正 | エ | A 正 | B 誤 | C 誤 |
| オ | A 誤 | B 正 | C 正 | カ | A 誤 | B 正 | C 誤 |
| キ | A 誤 | B 誤 | C 正 | ク | A 誤 | B 誤 | C 誤 |

(2) 無投票当選者数が多いことは日本の民主主義にとってどのような問題があると思いますか。あなたの考えを答えなさい。

問5 下線部⑤について、次の裁判所についての記述のうち誤っているものを次のア～エの中から1つ選び、記号で答えなさい。

ア 裁判所は法律が憲法に違反^{いはん}していないかを判断する。

イ 裁判所は罪を犯した疑いのある人が有罪か無罪かを判断し、有罪の場合は刑^{けい}の種類や重さを判断する。

ウ 裁判員裁判では、裁判員は罪を犯した疑いのある人が有罪か無罪かを判断し、刑の種類や重さは裁判官が判断する。

エ 裁判の間違^{まちが}いを防ぎ、人権を守るため、同じ事件について3回まで裁判を受けることができる。

(令和6年度)

社会解答用紙

(第3回入試)

教室番号			座席番号		受験番号				氏名	

※合計

〔 注意 (イ) ※のらんには何も書かないこと。
 (ロ) 答えは、数字やア、イ、ウなどの記号を紛らわしくないようにきちんと書くこと。 〕

1

問1			問2	
(1)	(2)		(1)	
	A	B	a	b

※合計

問2	
(2)	

問3		問4		問5	問6
A	B	A	B		

問7	

2

問1	問2	問3	問4	問5

※合計

問6	問7	問8

問9	

問10	問11	問12

問13	
→ →	

3

問1		問2	問3		問4
(1)	(6)		A	B	(1)

※合計

問4				問5
(2)				