

---

令和7年度 第1回午前（4科目）

桐蔭学園 中等教育学校 学力検査問題

社 会

令和7年2月1日 施行

---

注意事項

1. 試験開始の合図があるまで、この冊子の中を見てはいけません。
2. 机の上には、えんぴつ・シャープペンシル・消しゴム・受験票・座席券・時計以外のもを置いてはいけません。受験生どうしの貸し借りもできません。また、机の中には何も入れてはいけません。
3. スマートフォンは、必ず電源を切って、かばんの中に入れておいてください。
4. 問題冊子の印刷が見えづらかったり、ページが不足したりしている場合、また、えんぴつなどを落としたり、体の調子が悪くなったりした時は、だまって手をあげてください。
5. 問題冊子のあいているところは自由に利用してかまいませんが、どのページも切りはなしてはいけません。
6. 記述問題において、小学校で習わない漢字はひらがなで書いてもかまいません。
7. 問題は21ページまであります。
8. 問題冊子は持ち帰ってください。

1 次の文を読んで、あとの問いに答えなさい。なお、文中の「          」は世界遺産の登録名です。

2024年7月に①インドで世界遺産委員会が開催され、日本からは、②新潟県の「③佐渡島の金山」が新しく世界遺産として登録されました。10円玉に描かれている京都府の④平等院鳳凰堂などの「古都⑤京都の文化財」、広島県の⑥「広島平和記念碑（原爆ドーム）」、⑦岐阜県と富山県にある⑧「白川郷・五箇山の合掌造り集落」も世界遺産です。インターネットを使えば、デジタル資料を見たり、メタバース空間（インターネット上の仮想空間）を自由に散策することも可能です。

一方、パリオリンピックが開催された⑨フランスでは、2019年にノートル・ダム大聖堂が火災で一部焼失し、⑩自然災害や火災と文化財の保護のあり方を考えるきっかけになりました。デジタルコンテンツの発展は、文化財の保護・保全に効果があることが期待されます。人類共通の財産である世界遺産を保護・保全しながら、次世代へつなぐバトンとして学び伝えてゆくことが今を生きる私たちに求められます。

問1 下線部①について、インドの国旗をア～エから1つ選び、記号で答えなさい。




ア



イ

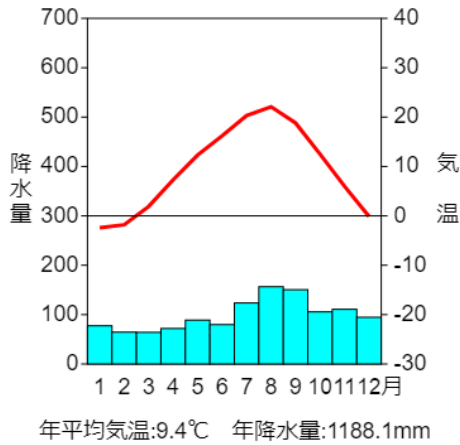


ウ

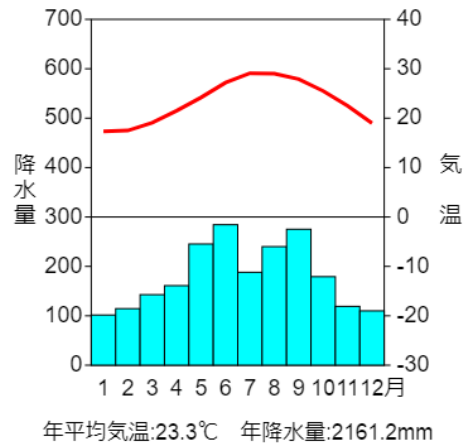


エ

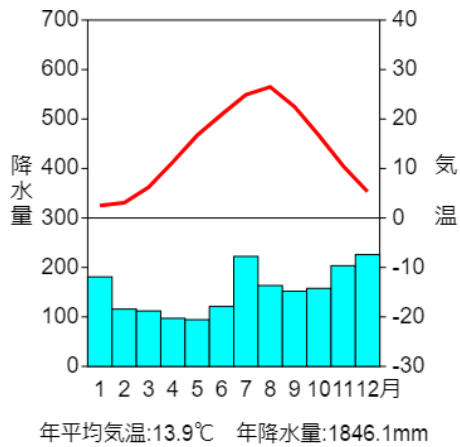
問2 下線部②について、次のア～エは、新潟、<sup>はこだて</sup>函館、<sup>なは</sup>那覇、<sup>よこはま</sup>横浜の各市の雨温図です。  
新潟にあてはまるものを1つ選び、記号で答えなさい。



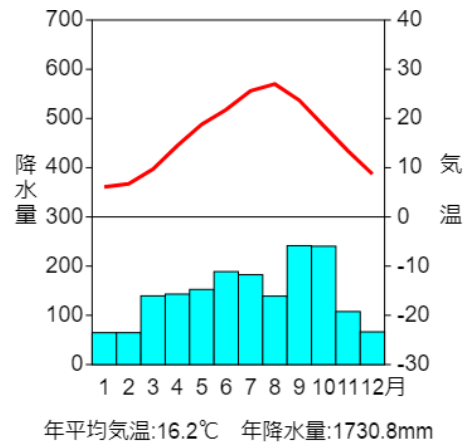
ア



イ



ウ



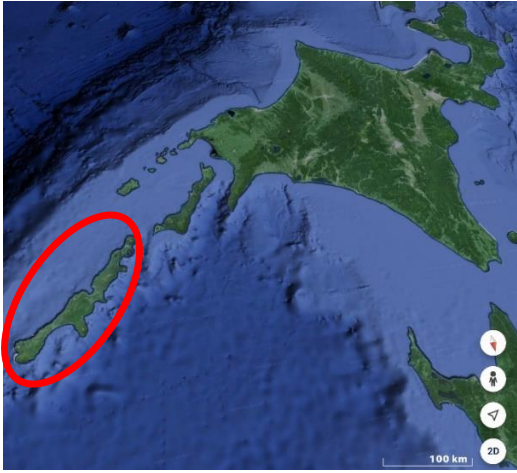
エ

「雨温図作成サイト」より

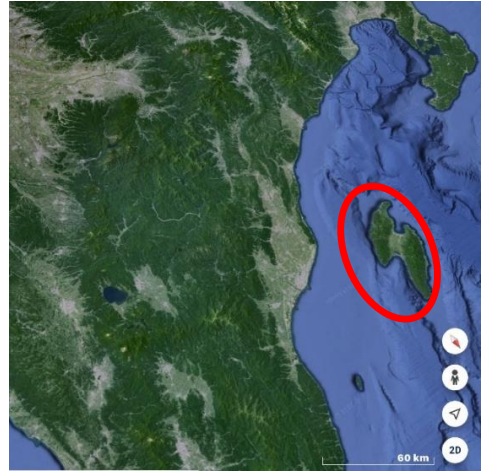
**問3** 下線部②について、新潟県は米の産地として有名です。日本の農業では、未来の食料生産を考えてスマート農業がスタートしました。スマート農業とは、ロボット技術や情報通信技術（ICT）などの先端技術せんたんを活用して、効率良く品質の高い農作物の生産をすすめている新しい農業のことです。スマート農業の説明として誤っているものを、ア～エから1つ選び、記号で答えなさい。

- ア 農作物の生育や病気を予測することができるようになった。
- イ 自動運転のトラクターによって人手と労働時間が増えてしまった。
- ウ パワーアシストスーツを使うことで収穫しゅうかくした農作物を運ぶのが楽になった。
- エ ドローンを使って農薬散布を行うことができるようになった。

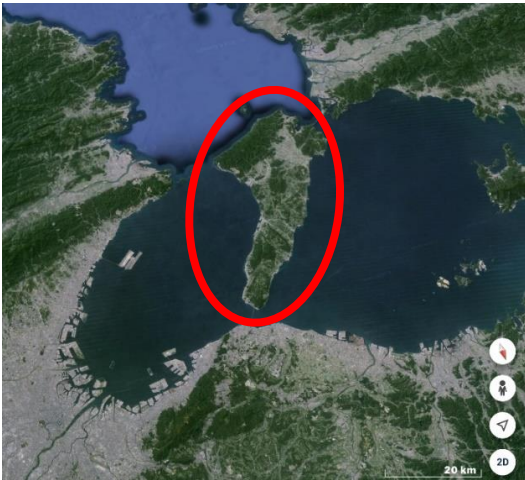
問4 下線部③について、次のグーグル・アースの画像の赤で囲ってある、佐渡島、<sup>さどがしま</sup> 択捉<sup>えとろふ</sup>島、<sup>とう</sup> 対馬<sup>つしま</sup>、<sup>あわじしま</sup> 淡路島のうち、新潟県の佐渡島の画像をア～エから1つ選び、記号で答えなさい。ただし、画像の上側が北とは限りません。



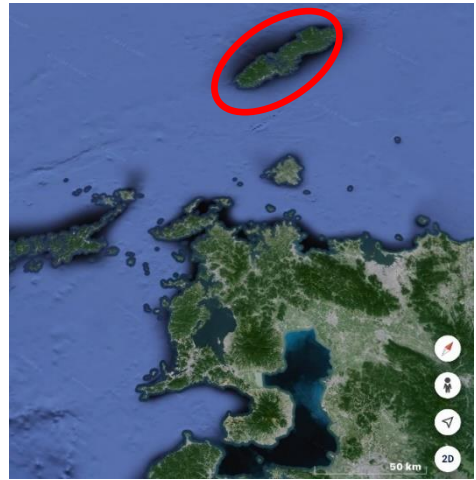
ア



イ



ウ



エ

「グーグル・アース」より

問5 下線部④について、次の写真は京都府宇治市にある平等院鳳凰堂と、『源氏物語』の著者である紫<sup>むらさき</sup>式<sup>しきぶ</sup>部の石像です。あとの(1)～(4)の設問に答えなさい。



平等院鳳凰堂



紫式部

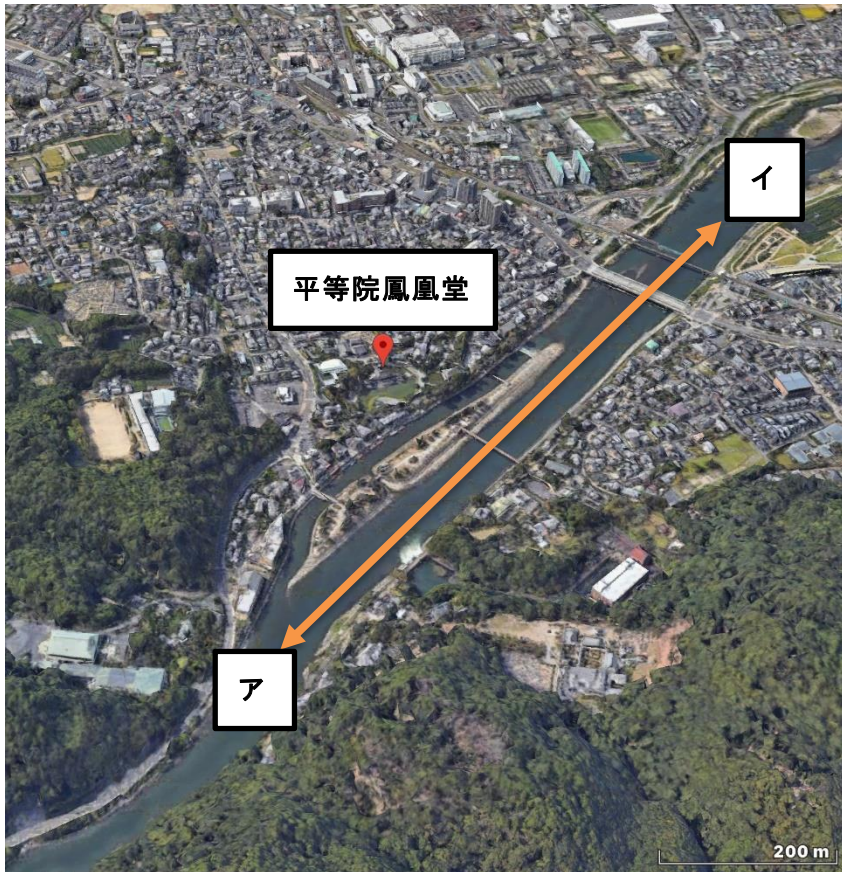


図1

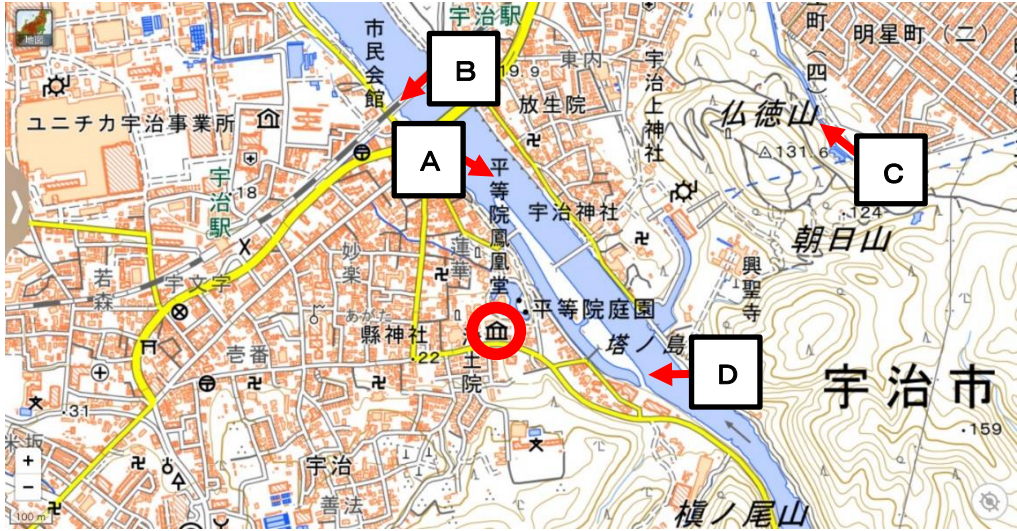


図 2

図 1～図 2 : 「地理院地図」より

- (1) 図 1 の平等院鳳凰堂の付近を流れる大きな川はどの方向に流れていますか。図 2 を参考にして図 1 のア→イ、イ→アのどちらかで答えなさい。
- (2) 紫式部の石像はどの位置から写した写真ですか。図 2 の A～D から 1 つ選び、記号で答えなさい。ただし、赤い矢印は写した方向を示しています。
- (3) 次の地図記号は、図 2 の赤で囲ってある地図記号を拡大したものです。この地図記号が示すものを次のア～エから 1 つ選び、記号で答えなさい。



ア 博物館

イ 寺院

ウ 図書館

エ 神殿 しんでん

- (4) 次の図の赤で囲ってある湖の名前を、漢字またはひらがなで答えなさい。ただし、画像の上側が北とは限らないため、平等院鳳凰堂の位置を参考にする。



「グーグル・アース」より



問6 下線部⑤について、美しい鴨川を取り戻すために、さまざまな立場の人に話を聞きました。以下のア～エは観光客、町内会、職人、行政の取り組みをそれぞれ示しています。**行政の取り組み**として最もふさわしいものを次のア～エから1つ選び、記号で答えなさい。

ア 下水道を整備して生活排水が川に流れないようにして、工場排水の規制もおこなった。

イ 染物工場では、鴨川の水を使っていたが、工場を鴨川から離れた場所に移して、地下水で染物を洗い、洗った水は下水道に流して川を汚さないようにした。

ウ 美しい鴨川を未来に伝えたいという思いから、地域住民中心で「鴨川を美しくする会」を発足した。

エ 鴨川で花見をした後、ごみを持ち帰り、清掃活動を行った。

問7 下線部⑥について、探究の授業でデジタル教材（「ヒロシマ・アーカイブ」）を活用して、平和学習を行いました。被爆80年をむかえる2025年の夏までに広島市はAI（人工知能）技術を活用した「被爆証言応答装置」の完成を目指しています。このことをふまえて、デジタル技術のあり方をみんなで話し合いました。次の意見のうち、**誤っているもの**を次のア～エから1つ選び、記号で答えなさい。

ア 時がたつにつれ、被爆体験者に直接、質問する機会が失われるため、AIが質問にこたえてくれることは、次世代に証言を伝える1つの手段として有効である。

イ 時代とともに紙の資料は虫食い、損傷、劣化のおそれがあるので、データをデジタル保存することは必要である。

ウ AIが考えることは人間が考えることより正確なので、AIの言うことだけを常に信じて行動すれば良い。

エ デジタル技術の進歩とともに、情報の正確性が求められるため、自分の考えをしっかり持ち、情報が本当に正しいのか、調べることが大切である。

問8 下線部⑦について、岐阜県海津市は大きな川の下流にあり、川にはさまれた土地の多くは、海面より低いため、堤防に囲まれています。このような土地を何といいますか。**漢字2字**で答えなさい。



「グーグル・アース」より

問9 下線部⑧について、白川郷の合掌造りでは、次の図のように、屋根が西に向く面と東に向く面に建てられています。下の白川郷の説明文の（ A ）に合うように、【 屋根に積もった雪 ・ 午前 ・ 午後 】という3つのキーワードを用いて、家を守るための工夫について説明しなさい。ただし、使用する**3つのキーワードには全て下線**を引くこと。

冬の寒さの厳しい白川郷では、家を倒壊させないように屋根を急傾斜にしたり、自然エネルギーを有効に使うために、（ A ）のような工夫がされています。



「白川郷・五箇山の合掌造り集落世界遺産センターのHP」より

問 10 下線部⑨について、グーグル・アースの画像は、日本、アメリカ、オーストラリア、フランスのいずれかの国の都市の画像です。下の説明文を参考にしながら、フランスの都市の画像を次のア～エから1つ選び、記号で答えなさい。

【 説明文 】

- 建築家の名前がつけられたシンボリックな建造物がある。
- セーヌ川という大きな川が流れている。
- 街の中心部は景観の観点から中・低層の歴史的建造物が多い。



ア



イ



ウ



エ

問 11 下線部⑩について、次の図は海面上昇シミュレーションシステムで南関東の水位を 10m 上昇させたものです。このシミュレーションで水没が予想される地域で起こると考えられる自然災害を、次のア～エから 1 つ選び、記号で答えなさい。

- ア 液状化      イ  なだれ      ウ  がけくずれ      エ  噴火による落石



「海面上昇シミュレーションシステム」より


問 12 下線部⑩について、次の文の ( B ) にあてはまる言葉を漢字 2 字で答えなさい。

自然災害による被害を減らすためには、国や都道府県・市区町村の取り組み (公助) だけでなく、まず、自分の命は自分で守ること (自助)、近所の人たちが助け合うこと ( B ) も大切です。

2 次の生徒たちの発表について、あとの問いに答えなさい。

修学旅行で大阪府に行くことになった桐蔭学園中等教育学校の生徒たちが、事前学習として大阪府に関係のある史跡や人物について下調べをしました。そして、それぞれが探究したいことがらも合わせて教室で発表しました。

Aさん：私は堺市にある大仙（仁徳天皇陵）古墳について調べました。この写真を見て下さい。これは①5世紀なかごろにつくられた、日本で最も大きな（あ）です。私はなぜ、このような大きな墓が造られたのかを探究したいと思います。



問1 下線部①について、この時期のできごととして正しいものを、次のア～エの中から1つ選び、記号で答えなさい。

- ア 渡来人たちが、はた織りや土器づくりなどの新しい技術を伝えた。
- イ およそ30の国をまとめた邪馬台国の女王が中国に使いを送った。
- ウ 吉野ヶ里遺跡（佐賀県）が戦いに備えた大集落として、つくられた。
- エ 三内丸山遺跡（青森県）周辺では、狩りや木の実の採集を中心に人々が生活していた。

問2 （あ）にあてはまる語句を漢字5字で答えなさい。

Bさん：私は大阪市にある難波宮跡<sup>なにわのみやあと</sup>について調べました。7世紀のなかごろ、②大化の改新といわれる新しい政治はこの都を中心にして行われました。また8世紀にも③聖武天皇<sup>しやうむ</sup>が短い間ですが、ここに都を移しています。私は難波に都が置かれた理由を探究したいと思います。

問3 下線部②について、このできごとの説明として誤っているものを、次のア～エの中から1つ選び、記号で答えなさい。

- ア 中大兄皇子<sup>なかのおおえのおうじ</sup>と中臣鎌足<sup>なかとみのかまたり</sup>が中心となって行った政治である。
- イ 天皇中心の政治を実現するため、645年に蘇我氏<sup>そが</sup>をたおした。
- ウ 唐<sup>とう</sup>から帰国した小野妹子<sup>おののいもこ</sup>らが活躍した。
- エ すべての土地と人民を天皇が治める政治のしくみが整えられていった。

問4 下線部③について、この人物の説明として誤っているものを、次のア～エの中から1つ選び、記号で答えなさい。

- ア 唐の都の長安<sup>ちやうあん</sup>にならってつくられた平城京<sup>なら</sup>（奈良県）に都を移した。
- イ 仏教の力を借りて国を守るため、全国に国分寺を建てることを命じた。
- ウ 都には国分寺の中心となる東大寺を建て、大仏をつくることを命じた。
- エ 東大寺の正倉院には、聖武天皇の持ち物などが約9000点も収められている。

Cさん：私は④ヨーロッパ人との取引で栄えた堺に注目しました。そして、この町で生まれた千利休<sup>せんりのきゆう</sup>と与謝野晶子<sup>よきのあきこ</sup>について調べました。利休は桃山時代<sup>ももやま</sup>に茶道を盛んにした人物。与謝野晶子は『君死にたまうことなかれ』という詩を発表して、（ い ）に反対したことで有名な歌人です。このふたりに共通点があるかどうか、探究したいと思います。

問5 下線部④について、この取引を何といいますか。次のア～エの中から1つ選び、記号で答えなさい。

- ア 三角貿易
- イ 南蛮貿易<sup>なんばん</sup>
- ウ 勘合貿易<sup>かんごう</sup>
- エ 朱印船貿易<sup>しゆいんせん</sup>

問6 （ い ）にあてはまるできごとを漢字で答えなさい。

Dさん：私は大阪城について調べました。⑤豊臣秀吉が築いたことで知られますが、現在の大阪城は徳川氏が造ったものだそうです。Bさんが調べた難波宮も大阪城のそばにあります。政治・経済や軍事の中心がなぜこの場所に置かれたのか、地形の特色を調べて探究したいと思います。

問7 下線部⑤について、この人物の説明として正しいものを、次のア～エの中から1つ選び、記号で答えなさい。

- ア 京都に入り、足利氏の将軍を追放して室町幕府をほろぼした。
- イ キリスト教を保護し、宣教師に教会や学校を建てることを認めた。
- ウ 全国に家来を派遣して、村ごとに検地を行い、田畑の面積を測らせた。
- エ 明を征服するため、3度にわたって明に大軍を送ったが失敗した。

Eさん：私は江戸時代に大阪に置かれた米市場について調べました。享保の改革と関係があるみたいです。なぜ大阪が⑥「天下の台所」と呼ばれる商業都市になったかを探究したいと思います。



堂島米市の図（「浪花名所図会」より）

問8 下線部⑥について、説明として誤っているものを、次のア～エの中から1つ選び、記号で答えなさい。

- ア 全国の物資はまず大阪に集められ、そこから消費地に向けて送られた。
- イ 幕府が認めた中国とオランダとの交易が行われた。
- ウ 蝦夷地から昆布やニシン、サケなどの海産物が運ばれた。
- エ 琉球から薩摩藩を経由して、黒砂糖などが運ばれた。

Fさん：私は井原西鶴と近松門左衛門について調べました。⑦元禄文化のころ大阪でたいへん人気のあった作家です。なぜ彼らが人気を集めたか、探究したいと思います。

問9 下線部⑦に関係する江戸時代の文化について、正しいものを次のア～エの中から1つ選び、記号で答えなさい。

- ア 近松門左衛門は人形浄瑠璃の台本を書いた。
- イ 浮世絵師の歌川広重は「富嶽三十六景」を完成させた。
- ウ 杉田玄白は本居宣長らとともに、オランダの医学書を翻訳した。
- エ 伊能忠敬は「古事伝記」を書きあげ、国学を発展させた。

Gさん：私は大阪市の旧真田山陸軍墓地について調べました。明治時代はじめに日本で最初に設置された軍人の墓地です。⑧西南戦争から⑨第二次世界大戦までの戦死者、病死者が埋葬されているそうです。兵士たちがどこでどのように亡くなったのかを探究したいと思います。

問10 下線部⑧について、この戦争で政府に抵抗した薩摩出身の中心人物は誰ですか。次のア～エの中から1つ選び、記号で答えなさい。

- ア 西郷隆盛
- イ 大久保利通
- ウ 伊藤博文
- エ 大隈重信

問11 下線部⑨に関して、次のア～オのできごとを古い順に記号で並べなさい。

- ア 満州事変がはじまる。
- イ 韓国併合が行われる。
- ウ 第一次世界大戦に日本が参戦する。
- エ 太平洋戦争がはじまる。
- オ 日中戦争がはじまる。



Hさん：私は吹田市にある万博記念公園について調べました。ここは⑩日本万国博覧会の会場だった場所です。万博が果たした役割について、探究したいと思います。

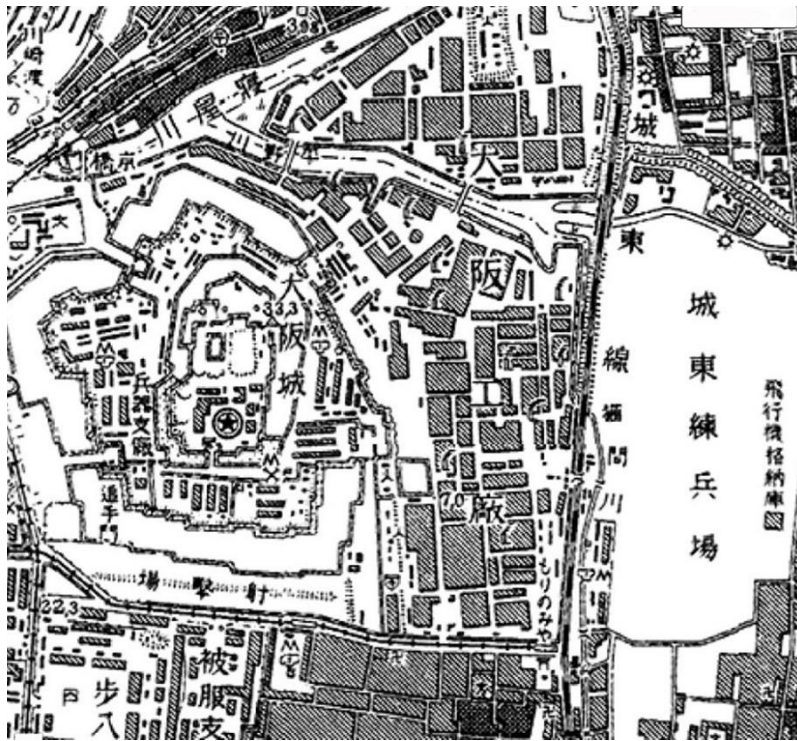


万博記念公園（「太陽の塔オフィシャルサイト」より）

問12 下線部⑩について、この博覧会開催後のできごととして正しいものを、次のア～エの中から1つ選び、記号で答えなさい。

- ア 国民総生産額がアメリカに次いで世界第2位となる。
- イ アジア初の東京オリンピック・パラリンピックが開催される。
- ウ 日本が国際連合に加盟して、国際社会に復帰する。
- エ 日中平和友好条約が結ばれる。

Iさん：私は「今昔マップ」を使って、昔の地図や写真から大阪市中心部の変化を調べました。上の図は昭和初期の地図、下の図は1942（昭和17）年の航空写真です。不思議なことに写真には黒く塗りつぶされた部分があります。⑪写真の一部がなぜ塗りつぶされたかを探究したいと思います。



「今昔マップ」より

問13 下線部⑪について、地図と写真を比較しながら、あなたの考えを簡潔に述べなさい。<sup>かんけつ</sup>

3 桐蔭学園中等教育学校の受験をひかえたカゲオ君と、同校の生徒である姉のキリコさんとの会話を読んで、あとの問いに答えなさい。

キリコさん：あなた、ゴロゴロしているけど、ちゃんと勉強しているの？

カゲオ君：しているよ。姉さんは僕が勉強しているところをみていないだけだよ。

キリコさん：本当かしら。お母さんにあなたがちゃんと勉強しているか見張ってて、と頼まれたのよ。でも、私もこれから①模擬国連部があるし、ドラえもんみたいにあなたがちゃんとやっているか見てくれるロボットがいたらいいのに…。

カゲオ君：ドラえもんはすごいよね。漫画のなかのお話だけど、あんなすごいAI（人工知能）が搭載されたロボットがあれば、世の中もっと便利になるのになあ。

キリコさん：確かに今のAIはまだまだ発展途上ね。私が学校から借りてきたこの漫画を見て、『ドラえもん』の「きこりの泉」というお話よ。


※漫画はこちらから読みます。

ジャイアン

女神ロボット

のび太

ドラえもん



小学館発行 てんとう虫コミックス 『ドラえもん』 第36巻 より

カゲオ君 : 女神ロボットは、泉に落としたものを正しく答えた場合に、より価値の高いものと交換する **A** に従って行動しているね。のび太とドラえもんは泉に落ちる前のジャイアンを返してほしいのに、AIは **B** から、「きれいなジャイアン」が返ってきたのか。漫画のなかの女神ロボットはそうではない気がするけれど… (笑)。現実の世界にあてはめると、今の開発途上のAIにもあてはまる特徴を、作者の藤子・F・不二雄先生がうまく笑いに変えていて、とても面白いね。

キリコさん : でも②AIの発展は目覚ましいわよ。今、世の中に存在する仕事の多くがAIに置き換わると言っている人もいるわね。中には③裁判の判決までAIに任せた方がいいなんて極端な意見もあるわ。でも、使い方を誤れば、④人権を侵害する可能性もあることから、⑤条約によってAIの開発や利用を規制する動きも世界にあるのよね。

カゲオ君 : 日本の政府もAIを活用する事業者に向けてのガイドラインを去年取りまとめたね。「人間中心」とか「安全性」とか「透明性」とかがうたわれていたよ。AIが僕たちの生活に本当に役立つものになるように、それを扱う僕たち自身がしっかりと⑥意見をもっていないといけないね。

問1 空欄Aには、「正しい答えを出すための決まった手順」を表す語句が入ります。あてはまる語句として正しいものを、次のア～エの中から1つ選び、記号で答えなさい。

ア リテラシー      イ パターン      ウ アルゴリズム      エ システム

問2 空欄Bにあてはまる文を、以下の語句を使って、解答欄に合うように書きなさい。

気持ち

問3 下線部①について、模擬国連部の国連とは国際連合のことである。国際連合に関する文として正しいものを、次のア～エの中から1つ選び、記号で答えなさい。

- ア 第二次世界大戦の戦勝国と敗戦国が協力し、193か国の合意のもと、1945年に設立された。
- イ 国連総会はすべての加盟国が参加し、国力に関わらず一国一票で議決をおこなう。
- ウ 国際司法裁判所は国際連合の主要機関ではない。
- エ 安全保障理事会の決議は、非常任理事国を含めてすべての国が一致していなければならない。

問4 下線部②について、近年のA I（人工知能）の発展に関する文として内容が誤っているものを、次のア～エの中から1つ選び、記号で答えなさい。

- ア 自動車に搭載され、運転手を乗せずに公道を走るバスが実用化されている。
- イ 良心を持ち、弱い立場の人には攻撃を加えない無人兵器が戦争で使われている。
- ウ 状況に応じた適切な文章や音声を作成する生成A Iが活用されるようになった。
- エ 医療や福祉の現場で、診察や治療、介護をサポートするロボットが利用されている。

問5 下線部③について、わが国の裁判に関する文として正しいものを、次のア～エの中から1つ選び、記号で答えなさい。

- ア 国会に設けられる弾劾裁判所の判決によって、裁判官をやめさせることができる。
- イ 簡易裁判所の判決に不服があった場合、上級の裁判所である家庭裁判所に訴えることができる。
- ウ 日本の裁判員裁判では、裁判員は有罪か無罪かの判断にのみ関わることになる。
- エ 刑事裁判において、検察官は被告人の弁護をする役割を果たす。

問6 下線部④について、わが国の人権をめぐる問題に関する文として正しいものを、次のア～エの中から1つ選び、記号で答えなさい。

- ア 情報公開制度を通じて、国や地方自治体のもつ情報を知る権利が認められている。
- イ 仕事について働く権利や働く人が団結する権利が日本国憲法の条文で規定されているが、働く義務は規定されていない。
- ウ 選挙に行くことは参政権のひとつであるが、選挙当日に投票会場に行かなければ行使することはできない。
- エ 障害者差別解消法は、障がいのある人の働く権利を保障するために制定された法律である。

**問7** 下線部⑤について、国際機関で採択<sup>さいたく</sup>された条約に関する文として正しいものを、次のア～エの中から、1つ選び、記号で答えなさい。

**ア** 対人地雷全面禁止条約は対人地雷の使用・製造・入手・保有を禁止した条約であるが、日本は加入していない。

**イ** ラムサール条約は、湿地やそこに住む水鳥などの生物を保護するための条約である。

**ウ** 核兵器禁止条約が発効したことで、アメリカとロシア以外に核兵器の保有国は無くなった。

**エ** パリ協定は、発展途上国を除くすべての先進国が参加しており、温室効果ガスの排出量を2050年までに実質ゼロにすることを約束したものである。

**問8** 下線部⑥について、政治や社会に対して多くの人々がもっている意見を何というか、**漢字2字**で答えなさい。

問題は以上です。